

مادة: النشاط العلمي

1 - أجب بصحيح أم خطأ: 2 ن

- تستغرق دورة حياة شجرة اللوز سنة واحدة

- تبدأ دورة حياة نبتة البازلاء بشجيرة وتنتهي ببذرة


- الأسرود هو صغير الفراشة ويشبهها في الشكل

- الحيوانات البرية هي التي تعيش في البحر

2 - أصنف الحيوانات التالية حسب الجدول: (2 ن) نمر / حلزون / أخطبوط / سلحفاة مائية

حيوانات مائية	حيوانات برية	حيوانات لافقرية	حيوانات فقرية

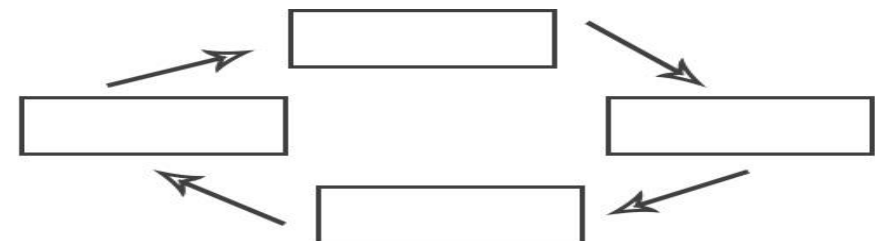
3 - ألاحظ دورة حياة الضفدعة، و أجب عن الأسئلة التالية:



أ - أرتب المراحل بالأرقام من 1 إلى 4. 2 ن.

ب - بماذا تبدأ دورة حياة الضفدعة؟ وبماذا تنتهي؟

ج - أملأ البطاقات بما يناسب: شرغوف / ضفدعة يافعة / بيضة / ضفدعة صغيرة.



مادة: النشاط العلمي

1 - أجب بصحيح أم خطأ: 2 ن

- تستغرق دورة حياة شجرة اللوز سنة واحدة

- تبدأ دورة حياة نبتة البازلاء بشجيرة وتنتهي ببذرة


- الأسرود هو صغير الفراشة ويشبهها في الشكل

- الحيوانات البرية هي التي تعيش في البحر

2 - أصنف الحيوانات التالية حسب الجدول: نمر / حلزون / أخطبوط / سلحفاة مائية....

حيوانات مائية	حيوانات برية	حيوانات لافقرية	حيوانات فقرية

3 - ألاحظ دورة حياة الضفدعة، و أجب عن الأسئلة التالية:



أ - أرتب المراحل بالأرقام من 1 إلى 4. 2 ن.

ب - بماذا تبدأ دورة حياة الضفدعة؟ وبماذا تنتهي؟

ج - أملأ البطاقات بما يناسب: شرغوف / ضفدعة يافعة / بيضة / ضفدعة صغيرة.

