



## الأسدوس الثاني


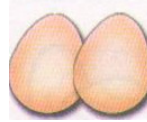



المادة : النشاط العلمي



الولي	الإدارة	النقطة
		10

الاسم :  
التاريخ :  
الفوج :  
المستوى : الأولى ابتدائي

## 1 / أصل كل غذاء بمصدره :



## 2 / أحيط بخط الحليب و مشتقاته :





## 3 / ألون : - بالأحمر الأغذية من أصل حيواني .

- بالأخضر الأغذية من أصل نباتي.



4 / أضع علامة (X) تحت الوجبة المتنوعة :



5 / أصل الحيوان بـغـذائـه :



•



•




•



•



•



•

6 / أملأ الفراغ بما يناسب: اللحم - العشب

الحيوان يتغذى بأغذية من أصل نباتي .

الحيوان يتغذى بأغذية من أصل حيواني .

7 / أحيط بخط الحيوانات اللاحمة :



0.5

1.5

1.5

2