



مادة الرياضيات

المراقبة المستمرة المرحلة الرابعة

الاسم:

أنجز العمليات التالية: (3ن)

1

968 - 253	476 + 485	524 + 286
....
84 x 7	214 x 2	751 - 167
....

أتمم ما يلي: (2ن)

2

(الغرام - اللتر)

أقيس السعة بـ:

أقيس الكتل بـ:

(السعة - الكتلة)



قياس



قياس

أصلِ بخط: (5,1ن)

4

عيد المولد النبوي

عيد الأضحى

عيد الفطر

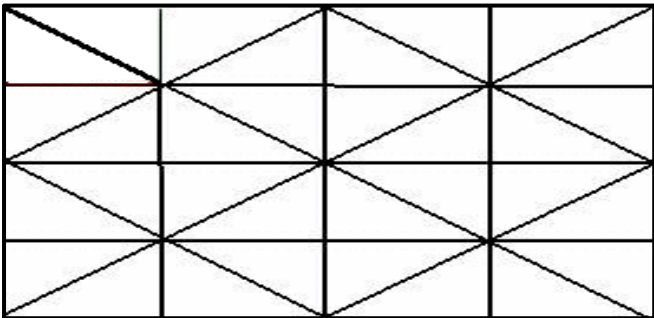
10 ذو الحجة

1 شوال

12 ربيع الأول

أرصف السطح باستعمال لونين مختلفين: (2ن)

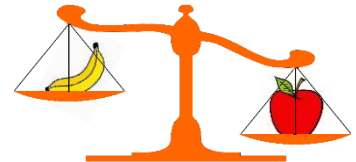
5



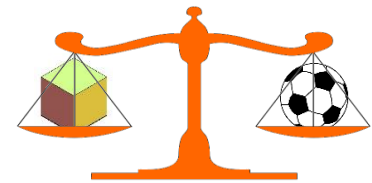
أنمِّم بِالْعِبَارَةِ الصَّحِيحَةِ: (5,1ن)

3

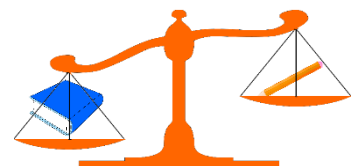
(أخف من / أثقل من / لها نفس ثقل)



التفاحة الموزة



الكرة العلبة



القلم الكتاب

النقطة

