

فرض 2 النشاط العلمي

الاسم الشخصي:

التاريخ:

1 حدد الأعضاء التي تساعد كل حيوان على التنقل في الماء:

زعانف	-	جلد بين الأصابع	-	أطراف على شكل مجاذف
سلحفاة		اوزه		ضفدعة

2 ميز بين الأجسام الموصلة للحرارة والأجسام العازلة للحرارة فيما يلي:





خشب - زنك - زجاج - نحاس - ثوب - حديد

أجسام موصلة للحرارة	-	أجسام عازلة للحرارة
	-	
	-	

3 أجب ب: صحيح أو خطأ

	عندما تتمدد الأجسام يصغر حجمها.
	الانصهار هو تحول الجسم من الحالة الصلبة إلى الحالة السائلة.
	التبخر هو تحول الجسم من الحالة السائلة إلى الحالة الغازية.
	عندما يتمدد الجسم يزداد وزنه.

4- أكتب الأسم المناسب لكل صورة:

أشكّل دورة حياة الفاصوليا.

.....

.....

.....

.....