

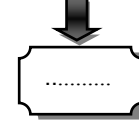
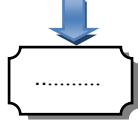
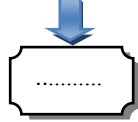
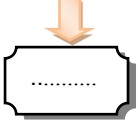

تاريخ اليوم:

مراقبة مستمرة المرحلة الثالثة
المستوى الأول

اسم التلميذ/ة:

الرياضيات

1 أَكْتُبُ الْعَدَدَ الْمُنَاسِبَ دَاخِلَ الْبَيْطَةِ: (2.5):



2 أَلْوَنُ أَكْبَرَ عَدَدٍ بِالْأَحْمَرِ وَأَصْغَرَ عَدَدٍ بِالْأَصْفَرِ: (1):

9 3 7 8 5 2 1 6 4

3 أَحْبِطُ الْحَيَوَانَ الْمَوْجُودَ خَارِجَ السِّيَاحِ: (1):



4 أَحْبِطُ مَا يَوْجَدُ أَمَامَ الطِّفْلِ وَأَشْطَبُ عَلَى مَا يَوْجَدُ فَوْقَ الشَّجَرَةِ: (1):



5 أَضِعِ الرَّمْزَ التَّالِيَ مَكَانَ النُّقْطِ > أو = أو < (ن4)

6	5	4	4	9	8	1	4
3	1	2	2	6	4	3	7

6 أَصِلْ كُلَّ بَطَاقَةٍ بِالْعَدَدِ الْمُنَاسِبِ: (ن2)

$3 + 7$
 $1 + 1 + 2$

10
4


$3 + 1$
 $2 + 5 + 3$

6 - 4 - 2 - 8 - 3 - 1 - 9 - 7 - 5





7 ارْتَبِ تَصَاعُدِيًّا الْأَعْدَادَ التَّالِيَةَ: (3.5)




..... < < < < < < <

8 أَحِيطْ أَقْصَرَ شَرِيْطٍ وَأَشْطَبْ عَلَى أَطْوَلِ شَرِيْطٍ: (ن1)



9 اُتِمِّمْ مَا يَلِي: (ن2)

 +  +  = 
2 + + 1 =

 +  +  =
1 + 5 + =

10 اُتِمِّمْ مَا يَلِي بِتَرْتِيبِ الْمُنْسَابِينَ حَسَبِ الْمَرْتَبَةِ الَّتِي أَحْتَلَّهَا كُلُّ مُتْسَابِقٍ: (ن2)

- 10 8 9 7 6 5 4 3 2 1

