


الامتحان الموحد الإقليمي
لنيل شهادة الدروس الابتدائية
دورة يونيو 2021
مادة الرياضيات
المدة الزمنية: ساعة ونصف

ⵜⴰⵎⴰⵏⵜ ⵏ ⵉⵎⴰⵔⵓⵏ
ⵜⴰⵎⴰⵏⵜ ⵏ ⵉⵎⴰⵔⵓⵏ ⵏ ⵉⵎⴰⵔⵓⵏ ⵏ ⵉⵎⴰⵔⵓⵏ
ⵏ ⵉⵎⴰⵔⵓⵏ ⵏ ⵉⵎⴰⵔⵓⵏ ⵏ ⵉⵎⴰⵔⵓⵏ
ⵏ ⵉⵎⴰⵔⵓⵏ ⵏ ⵉⵎⴰⵔⵓⵏ ⵏ ⵉⵎⴰⵔⵓⵏ
ⵏ ⵉⵎⴰⵔⵓⵏ ⵏ ⵉⵎⴰⵔⵓⵏ ⵏ ⵉⵎⴰⵔⵓⵏ
ⵏ ⵉⵎⴰⵔⵓⵏ ⵏ ⵉⵎⴰⵔⵓⵏ ⵏ ⵉⵎⴰⵔⵓⵏ



المملكة المغربية
وزارة التربية الوطنية والتكوين المهني
والتعليم العالي والبحث العلمي
الأكاديمية الجهوية للتربية والتكوين
جهة كلميم واد نون
المديرية الإقليمية لكلميم

الاسم الكامل:

رقم الامتحان:

اسم المصحح:
توقيعه:

النقطة بالأرقام:

النقطة بالحروف:

أولاً: الأعداد والحساب (13ن):

1. ضع وأنجز:

8 ن

$(4397 + 6809,2) - 7416,93$	$739 \times 4,85$	$182 \div 5,6$

2. أحسب واختزل ما يلي:

2 ن

$$\left(0,5 + \frac{2}{3}\right) \div \left(\frac{3}{2} - \frac{1}{4}\right) =$$

3. وضع تاجر مبلغ 51 000 درهما في بنك لمدة سنة ونصف بسعر 4%.

3 ن

أ- أحسب الفائدة السنوية لهذا المبلغ؛

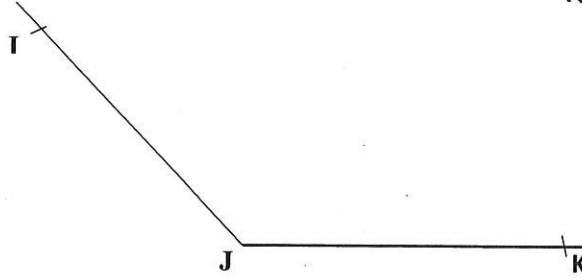
ب- كم سيصبح هذا الرأسمال بعد مضي سنة ونصف؟

لا يُكتب أي شيء داخل هذا الإطار

ثانيا: الأنشطة الهندسية (11ن):

3 ن

4. أرسم منصف الزاوية \hat{J}

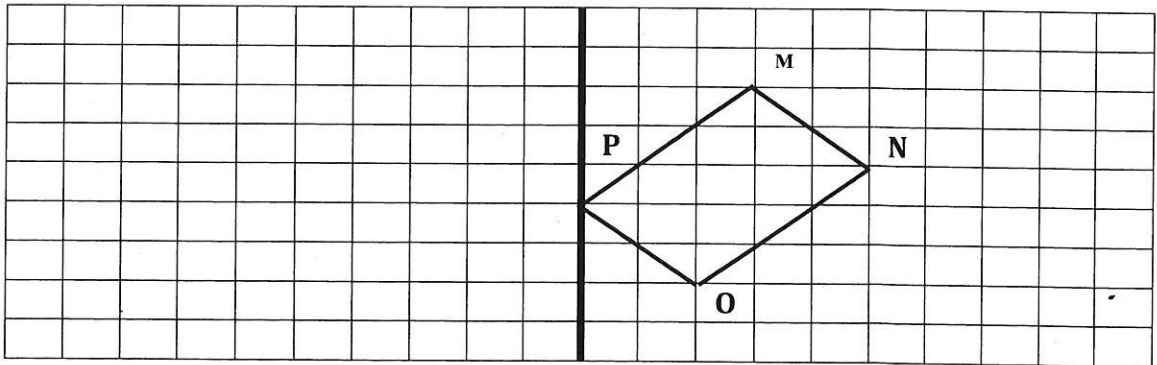


3 ن

5. أنشئ المتوازي الأضلاع ABCD بحيث طول $AB = 4,5 \text{ cm}$ و $BC = 3 \text{ cm}$

2 ن

6. أرسم الرباعي $M'N'O'P'$ مماثلا للشكل MNOP بالنسبة لمحور التماثل (D)



(D)

3 ن

7. أرضية مسيحية على شكل معين طول قطره الصغير هو 4 m وطول قطره الكبير هو ضعف طول قطره الصغير.

• أحسب مساحة أرضية هذا المسبح بـ m^2 .

لا يُكتب أي شيء داخل هذا الإطار

ثالثا: أنشطة القياس (13ن)

8. حول إلى الوحدة المطلوبة:

dam

q

dam³

a

2.5 ن

• $73,1 \text{ m}18\text{dm} =$

2.5 ن

• $0,2 \text{ t} + 85\text{kg} =$

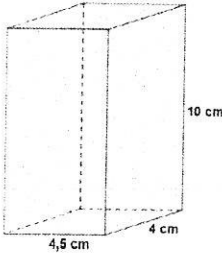
2.5 ن

• $1,25 \text{ m}^3 - 13 \text{ dm}^3 =$

2.5 ن

• $94 \text{ dam}^2 146,3 \text{ m}^2 =$


3 ن



9. علبة عصير على شكل متوازي المستطيلات طول قاعدتها 4,5cm وعرض قاعدتها 4cm وارتفاعها 10cm (أنظر الشكل جانبه).
• أحسب حجم هذه العلبة ب cm^3 .

رابعا: تنظيم ومعالجة البيانات (3ن):

عدد الوفيات بفيروس كوفيد 19 في إحدى بلدان العالم خلال خمسة أشهر الأخيرة



يبين المخطط جانبه عدد الوفيات بالفيروس التاجي كوفيد-19 في إحدى بلدان العالم خلال خمسة أشهر الأخيرة.

10. استعن بالمخطط أعلاه واملأ الجدول التالي:

1.5 ن

الشهور	مارس	دجنبر
عدد الإصابات	130

0.75 ن

11. ما هو الشهر الذي سُجلت فيه أكبر عدد من الوفيات بكوفيد - 19 في هذا البلد؟

0.75 ن

12. ما هو الشهر الذي سُجلت فيه أقل عدد من الوفيات بكوفيد- 19 في هذا البلد؟