

المستوى الثالث	الاسم الكامل
فرض المرحلة الرابعة الدورة الثانية		
	مادة الرياضيات	/10

1 أحسب جمع وفرق الأعداد الكسرية التالية: (3ن)

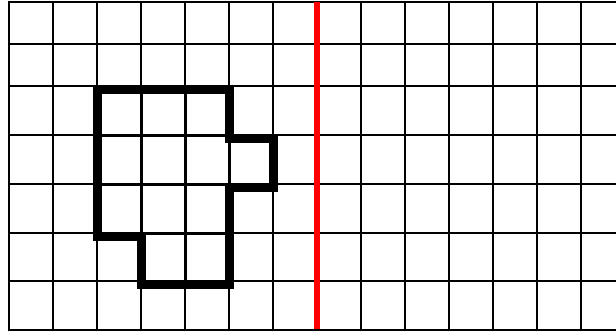
$$\frac{3}{8} + \frac{4}{8} =$$

$$\frac{1}{5} + \frac{7}{5} =$$

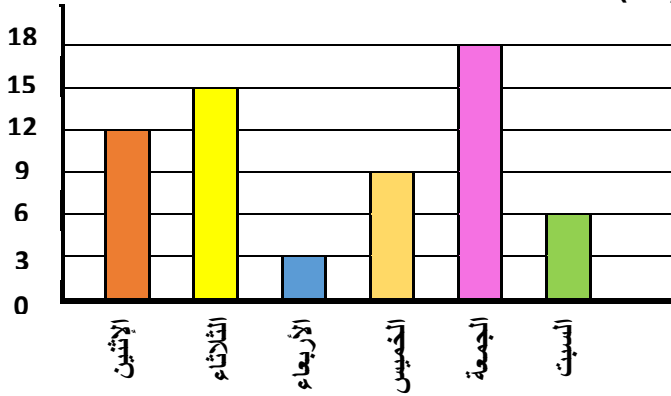
$$\frac{9}{6} - \frac{3}{6} =$$

$$\frac{7}{2} - \frac{4}{2} =$$

2 Je dessine le symétrique de cette figure : (2ن)





3 أستخرج المعلومات المطلوبة من المخطط التالي: (3ن)



يبين المخطط التالي عدد الصفحات التي قرأتها كنزة من روايتها الجديدة خلال أسبوع. ألاحظ المخطط جيدا وأجيب:

- كم عدد الصفحات التي قرأتها كنزة يوم الثلاثاء؟
- ما هو اليوم الذي قرأت فيه كنزة أكبر عدد من الصفحات؟
- كم عدد الصفحات التي قرأتها كنزة خلال أسبوع؟

4 باستعمال أدوات الهندسية أرسم مثلثا قائم الزاوية، ومثلثا متساوي الأضلاع (2ن)



بالتوفيق للجميع

تاريخ اليوم:

الفرض 2 الدورة الثانية
المستوى الثالث

اسم التلميذ/ة:

رياضيات

1

le calcule les opérations suivantes

$$\frac{6}{7} + \frac{8}{7} = \dots\dots\dots$$

$$\frac{6}{9} - \frac{2}{9} = \dots\dots\dots$$

2 أكلت ريم $\frac{3}{6}$ من البيژا، بينما أكل أخوها ط $\frac{2}{6}$

أحسب مجموع ما أكلاه معاً: (ن2)

3

حول ما يلي إلى الوحدة المطلوبة: (ن4)

$$54g = \dots\dots\dots cg$$

$$30q = \dots\dots\dots hg$$

$$15dl = \dots\dots\dots ml$$

$$75m \ 20dm = \dots\dots\dots mm$$

4

أرسم الأشكال المطلوبة: (ن3)

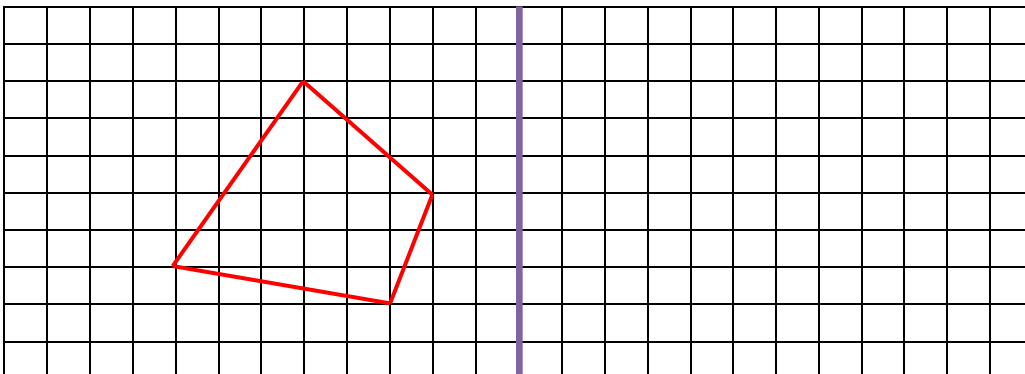
مثلث متساوي الساقين

مثلث قائم الزاوية

مثلث متساوي الأضلاع

5

أرسم مماثل الشكل بالنسبة لمحور التماثل: (ن2)



6

وَزَعُ أُسْتَاذُ 72 قِصَّةً عَلَى 6 أَقْسَامٍ بِالنِّسَابِ :

أَحْسِبْ عَدَدَ الْقِصَصِ الَّتِي تَوَصَّلَ بِهَا كُلُّ قِسْمٍ : (2ن)

.....

.....

.....

.....

.....

7

ثَمَنُ كِيلُوغَرَامٍ وَاحِدٍ مِنَ اللَّحْمِ هُوَ 70 دِرْهَمًا. اَتَمِّمْ مَلَأَ الْجَدْوَلَ الْتَّالِيَّ : (3ن)

5	3	1	كتلة اللحم بالكيلوغرام
.....	140	70	ثمن اللحم بالدرهم

8

ارسم دائرة مركزها 0 وشعاعها 4cm : (2ن)