

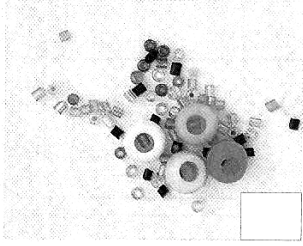


# فرض 1 في النشاط العلمي

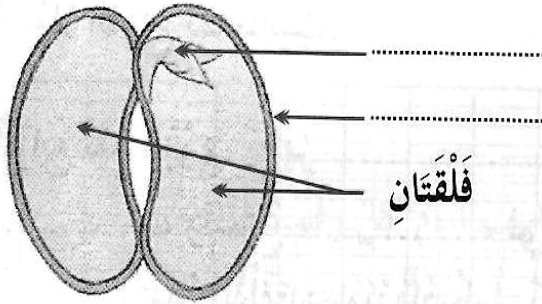
10

الاسم و النسب:.....  
التاريخ:.....

1. ضع علامة (x) تحت البذور: (2 نقط)



2. ضع أسماء للأجزاء التالية: (3 نقط)



3. تنتشر البذور بواسطة..... (نقطة واحدة)

4. ضع علامة (x) في الخانة المناسبة: (4 نقط)

دقيق	زيت	نفاح	عصير	هواء	رمل	أوكسجين