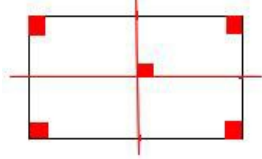
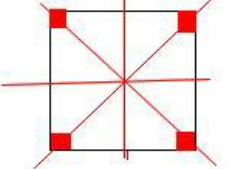
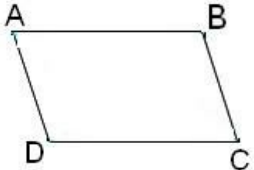
	<p>الشكلان (F1) و (F2) متمائلان بالنسبة للمستقيم (D)          باستعمال عملية الطي حسب محور التماثل ينطبق الشكل (F1) على الشكل (F2)</p>
	<p>للمستطيل محورا تماثل</p>
	<p>للمربع أربعة محاور تماثل</p>
	<p>ليس لمتوازي الأضلاع أي محور تماثل</p>