



الأسدوس الأول

النقطة .	الإدارة	الولي
10		



المادة الرياضيات

الاسم:

التاريخ:

الفوج:

المستوى: الثانية ابتدائي

B

1 / أصل بخط:

- 65
 - 23
 - 100
 - 103
- مئة و ثلاثة
- خمسة و ستون
- ثلاثة عشرون
- مئة

2 / أقارن بوضع الرمز المناسب: < أو > أو = مكان النقط:



7 16		47 39
23 19		86 6+80

3 / أرتب الأعداد التالية من الأصغر إلى الأكبر باستعمال الرمز المناسب:

9 ; 15 ; 43 ; 62 ; 78

4 / أملأ الفراغ بما يناسب:

$60 + 2 = ..$

$98 + .. = 100$

$30 + . = 36$

$100 + 40 + 7 = ...$

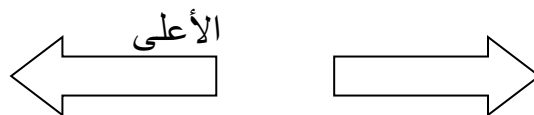
5 / أكتب بالأرقام أو بالحروف:

- 154 :

- : مئة وستون

- : 3 وحدات و 8 عشرات.

6 / ألون السهم المتجه نحو اليسار:



1

1

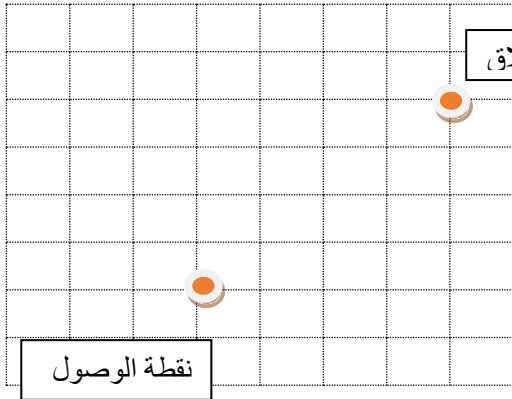
1

1

1

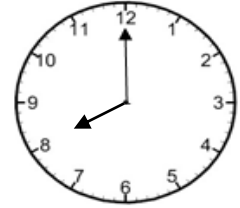
0.5

7/ لاحظ القن ثم أرسم المسار على الشبكة :



1

8/ أكتب التوقيت الذي تشير إليه الساعة:



تشير الساعة الى

0.75

9/ أملاً الساعة الالكترونية:

.. : ..

.. : ..

1

السابعة والنصف

الخامسة والرابع

10 / يملك أحمد النقود التالية :





1

أ - احسب المبلغ الذي يتوفر عليه عمر:

ب - هل يستطيع عمر شراء لعبة ثمنها 80 درهما

11/ أحيط بخط المبادلة الصحيحة:



0.75