

النشاط العلمي

المراقبة المستمرة 2 الأسدوس الثاني



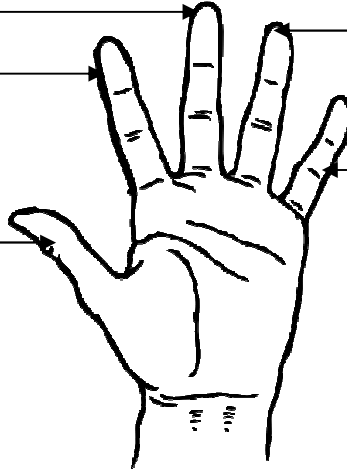
الاسم الكامل:
التاريخ:
الفوج:
القسم: الثاني ابتدائي

الملاحظة	الإدارة	الأب/ الولي
10		

تعرف حركات اليد - التنقل عند الحيوانات و الأعضاء المسؤولة عن ذلك.


معرفة

1 / أكتب ما يناسب أمام كل سهم : البنصر - الإبهام - السبابة - الخنصر - الوسطى .



1.25

2 / أصل بخط :



يمشي

يطير

يقفز

يعوم

2

فهم

3 / أملأ الفراغ بما يناسب: راحية - مجدافي - الزعانف :

تمكن السمكة من العوم

رجل البطة تمكنها من العوم .

الطرف الأمامي للطرسوح يمكنه من العوم.

1.5


4/ أضع علامة (x) أمام الجواب الصحيح :

- أثناء الزحف يتحرك جسم الثعبان على شكل تموجات .
- أثناء الجري تكون حركات الأطراف بطيئة,
- الجناح عند الخفاش طرف أمامي مغطى بجلد .

5 / ألاحظ الصور وأكتب و ضعياً الطرف الخلفي : منبسط - مثني .



6 / ألون العضو المساعد على التنقل :



7 / أملأ الفراغ بمايناسب :

⊖ الطرف الخلفي للضفدعة من الطرف الأمامي .

1.5

1

2

0.75